

ԱՇԽԱՐՀԱԳՐՈՒԹՅՈՒՆ

ԹԵՍՏ 7

Խմբի համարը

Նստարանի համարը

Հարգելի՛ դիմորդ

Առաջադրանքները կատարելիս յուրաքանչյուրից պետք է ընտրել այն տարբերակը, որը Ձեր կարծիքով ճիշտ պատասխանն է, և պատասխանների ձևաթղթի համապատասխան մասում կատարել նշում:

Խորհուրդ ենք տալիս առաջադրանքները կատարել ըստ հերթականության: Ուշադիր կարդացե՛ք յուրաքանչյուր առաջադրանքի պահանջը և պատասխանների առաջարկվող տարբերակները: Եթե Ձեզ չի հաջողվում որևէ առաջադրանքի անմիջապես պատասխանել, ժամանակը խնայելու նպատակով կարող եք այն բաց թողնել և դրան անդրադառնալ ավելի ուշ:

Ձեր առջև դրված թեստ-գրքույկի էջերի դատարկ մասերը ազատորեն կարող եք օգտագործել սևագրության համար: **Թեստ-գրքույկը չի ստուգվում: Ստուգվում է միայն պատասխանների ձևաթուղթը:**

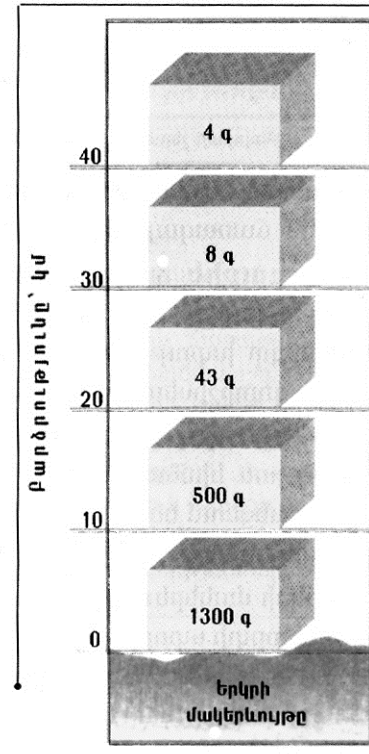
Առաջադրանքները կատարելուց հետո չմոռանաք պատասխանները ուշադիր և խնամքով նշել պատասխանների ձևաթղթում: Պատասխանների ձևաթղթի ճիշտ լրացումից է կախված Ձեր քննական միավորի ճշտությունը:

Ցանկանում ենք հաջողություն:

Ա մակարդակ

1 Նկարում պատկերված է.

- 1) 1մ^3 օդում առկա թունավոր գազերի զանգվածի նվազումը՝ ըստ բարձրության
- 2) օդի զանգվածի նվազումը՝ ըստ բարձրության
- 3) թթվածնի զանգվածի նվազումը՝ ըստ բարձրության
- 4) օդի ճնշման նվազումը՝ ըստ բարձրության



2 Հյուսիսային բևեռային շրջագծի և նրանից հարավ գտնվող Ա կետով անցնող զուգահեռականի միջև իրական ամենակարճ հեռավորությունը կազմում է 2664 կմ: Ա կետի աշխարհագրական լայնությունը կլինի.

- 1) հս.լ $24,5^\circ$
- 2) հս.լ $28,5^\circ$
- 3) հս.լ $42,5^\circ$
- 4) հս.լ $36,5^\circ$

3 Երկու կետերի ուղիղ գծով հեռավորությունը քարտեզի վրա 16սմ է, իսկ քարտեզի մասշտաբը՝ 1:2400000: Երկու կետերի իրական հեռավորությունը կլինի.

- 1) 3840կմ
- 2) 150կմ
- 3) 15կմ
- 4) 384 կմ

4 Ո՞ր պնդումն է ճիշտ:

- 1) Երևանի գոտիական ժամանակը առաջ է Տոկիոյի գոտիական ժամանակից:
- 2) Հասարակածի աշխարհագրական լայնությունը 90° է, իսկ բևեռներինը՝ 180° :
- 3) Հունիսի 22-ից մինչև սեպտեմբերի 21-ը հս.լ $66^\circ 30'0''$ -ից հյուսիս բևեռային ցերեկների տևողությունը կրճատվում է:
- 4) Կորիոլիսի ուժի հետևանքով Երկրի վրա հորիզոնական ուղղությամբ շարժվող օբյեկտները (գետեր, քամիներ և այլն) շեղվում են իրենց սկզբնական ուղղությունից հյուսիսային կիսագնդում՝ դեպի աջ, հարավայինում՝ ձախ:

5 Այն օդը, որն իր մեջ եղած ջրային գոլորշիներից ավելին չի կարող ընդունել կոչվում է.

- 1) չոր օդ
- 2) հագեցած օդ
- 3) ամպ
- 4) մառախուղ

6 Երկու ջրամերժ շերտերի միջև գտնվող ստորերկրյա ջրերը կոչվում են.

- 1) միջշերտային
- 2) քաղցրահամ
- 3) գրունտային
- 4) հանքային

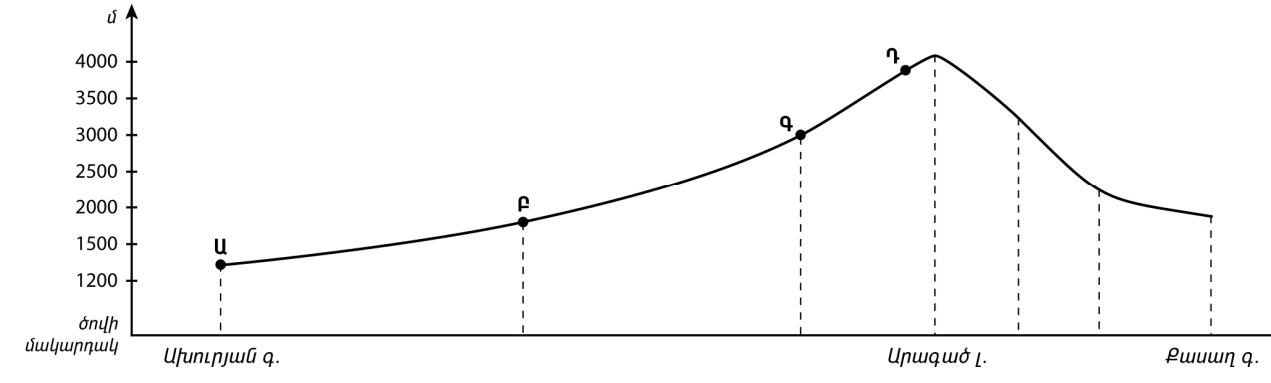
7 Քարտեզի վրա հավասար մթնոլորտային ճնշում ունեցող կետերը միացնող գիծը կոչվում է.

- 1) իզոբար
- 2) իզոբաթ
- 3) իզոթերմ
- 4) իզոհիպս

8 Երևան քաղաքում հունվարի 10-ին դիտվել է հետևյալ օդի ջերմաստիճանները՝ -5° , -9° , -6° , -4° , 3° , 5° , 2° , -2° : Օդի օրական միջին ջերմաստիճանը կլինի.

- 1) -2°
- 2) -4°
- 3) 2°
- 4) 3°

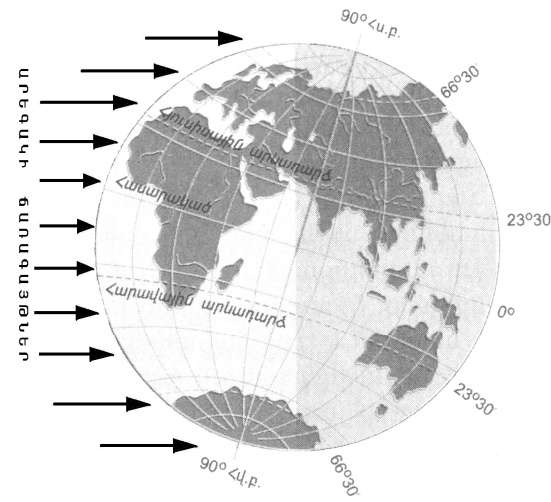
9 Ռելիեֆի կտրվածքի ո՞ր կետում են թափվում ամենաշատ տեղումներ:



- 1) Գ.
- 2) Դ.
- 3) Ա.
- 4) Բ.

10 Նկարում պատկերված է Երկրի դիրքը Արեգակի նկատմամբ.

- 1) դեկտեմբերի 22-ին
- 2) մարտի 21-ին
- 3) հունիսի 22-ին
- 4) սեպտեմբերի 23-ին



11 Բարեխառն ծովային կլիման բնորոշ է.

- 1) Ուրալյան լեռներից արևելք ընկած շրջաններին
- 2) Ավստրալիայի ծայր հարավ-արևմտյան մասին
- 3) Պատագոնիայի արևելյան առափնյա շրջաններին
- 4) Հյուսիսային Ամերիկայի բարեխառն գոտու արևմտյան և արևելյան մասերին

12 Ո՞ր բնական զոնային են առավելապես բնորոշ քանու ներգործության շնորհիվ ստեղծված ռելիեֆի ձևերը:

- 1) հասարակածային խոնավ, մշտադալար անտառների
- 2) բարեխառն գոտու անտառների
- 3) սավանաների և նոսրանտառների
- 4) անապատների և կիսաանապատների

13 Այդ կղզու գրեթե կենտրոնով է անցնում հասարակածը: Այդ կղզին Մալակկայի նեղուցով բաժանվում է Մալակկա թերակղզուց: Այդ կղզին է.

- 1) Ճավան
- 2) Սուլավեսին
- 3) Կալիմանտանը
- 4) Սումատրան

14 Ո՞ր պնդումն է ճիշտ:

- 1) Մեծ Արջի, Մեծ Սարուկների լճերը առաջացել են գետահունների լավային արգելափակման հետևանքով:
- 2) Հյուսիսային Ամերիկայի հյուսիսային ծովեզրքին՝ հարակից կղզիների տարածքում, տարածվում է խառը և լայնատերև անտառների զոնան:
- 3) Հյուսիսային Ամերիկայում լայնակի ձգվող լեռների բացակայության շնորհիվ օդային զանգվածները ազատ շրջանառություն են կատարում՝ երբեմն առաջացնելով հզոր պտտահողմեր:
- 4) Կալիֆոռնիական սառը հոսանքի ազդեցության շնորհիվ առափնյա շրջաններում թափվում են առատ տեղումներ:

(77-78) Լեռան ստորոտին մթնոլորտային ճնշումը 680 մմ է, իսկ գագաթին՝ 330 մմ:

77 Որոշել լեռան հարաբերական բարձրությունը:

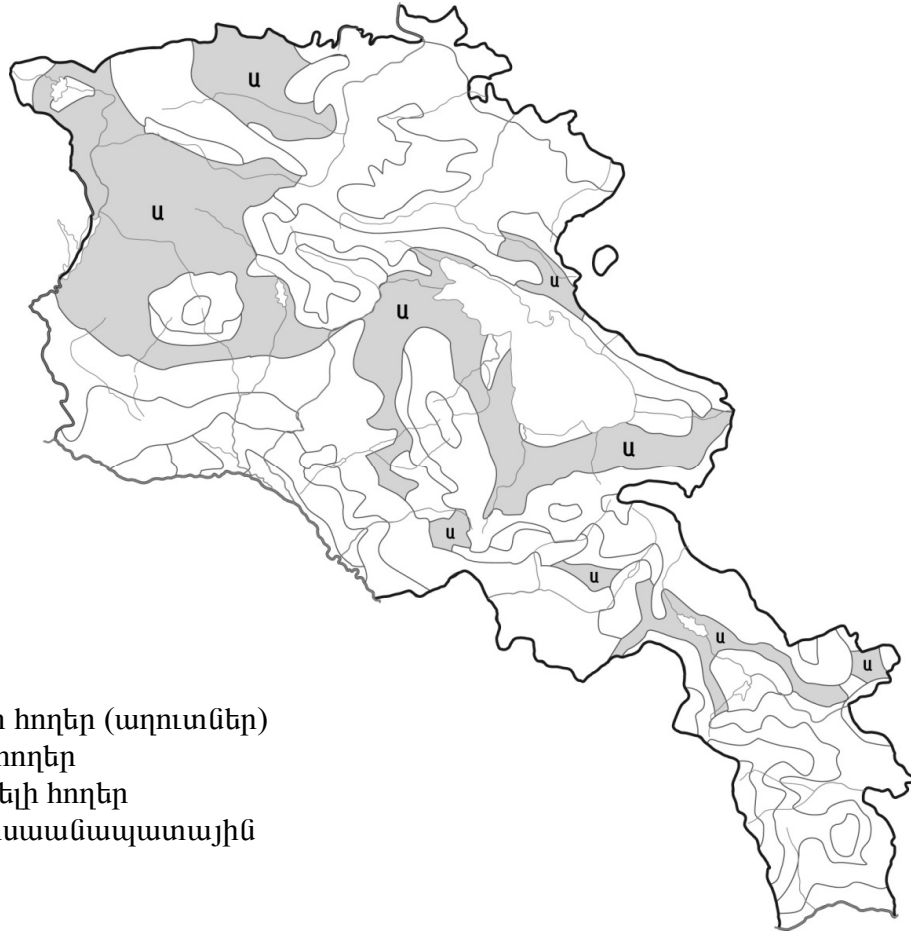
78 Որոշել լեռան բացարձակ բարձրությունը:

(79-80) Երկրի բնակչության թիվը 40 000 000 է, քաղաքաբնակների բացարձակ թիվը՝ 16 000 000, տարածքի մակերեսը՝ 200 000 կմ²:

79 Որոշել ուրբանիզացման մակարդակը:

80 Որոշել բնակչության միջին խտությունը:

Քարտեզի վրա ՀՀ հողային ո՞ր տիպն է նշված Ա տառով:



- 1) աղուտ-ալկալի հողեր (աղուտներ)
- 2) լեռնային սևահողեր
- 3) կուլտուր-ռոտզելի հողեր
- 4) անապատակիսաանապատային

Որոշել գետի հոսքը 1 ժամում, եթե գետի ջրի արագությունը 1.5 մ/վ է, իսկ գետահունի լայնակի կտրվածքի մակերեսը 6մ²:

Ո՞ր պնդումն է սխալ:

- 1) Ամենաշատ տեղումներ ստանում են Մեծ Ջրբաժան լեռնաշղթայի հյուսիսային հատվածի հողմակողմ լանջերը:
- 2) Էվկալիպտոները տարածվում են բացառապես անապատների և կիսանապատների զոնայում:
- 3) Ավստրալիայի հյուսիս-արևելյան ափերը ողողող Կորալյան ծովի մակերևութային տաք ջրերում բուռն զարգանում են կորալային պոլիպները:
- 4) Ավստրալիայի մակերևութի հիմքում ընկած է Ավստրալիական հնագույն պլատֆորմը:

«Նեղուց-դրանով բաժանված կղզի» սկզբունքով կազմված գույգերից ո՞րն է ճիշտ:

- 1) Թորեսի-Թայվան
- 2) Բերինգի-Գրենլանդիա
- 3) Մագելանի-Հրո Երկիր
- 4) Բաբ-Էլ-Մանդեբի-Մադագասկար

«Լեռնային համակարգ-լեռնագագաթ» սկզբունքով կազմված գույգերից ո՞րն է ճիշտ:

- 1) Ապալաչներ-Կոսցյուշկո
- 2) Էլբուրս-Դեմավենդ
- 3) Մեծ Կովկաս-Արարատ
- 4) Անտարկտիկական Անդեր-Ակոնկագուա

Ասիա աշխարհամասում հոսող գետեր են.

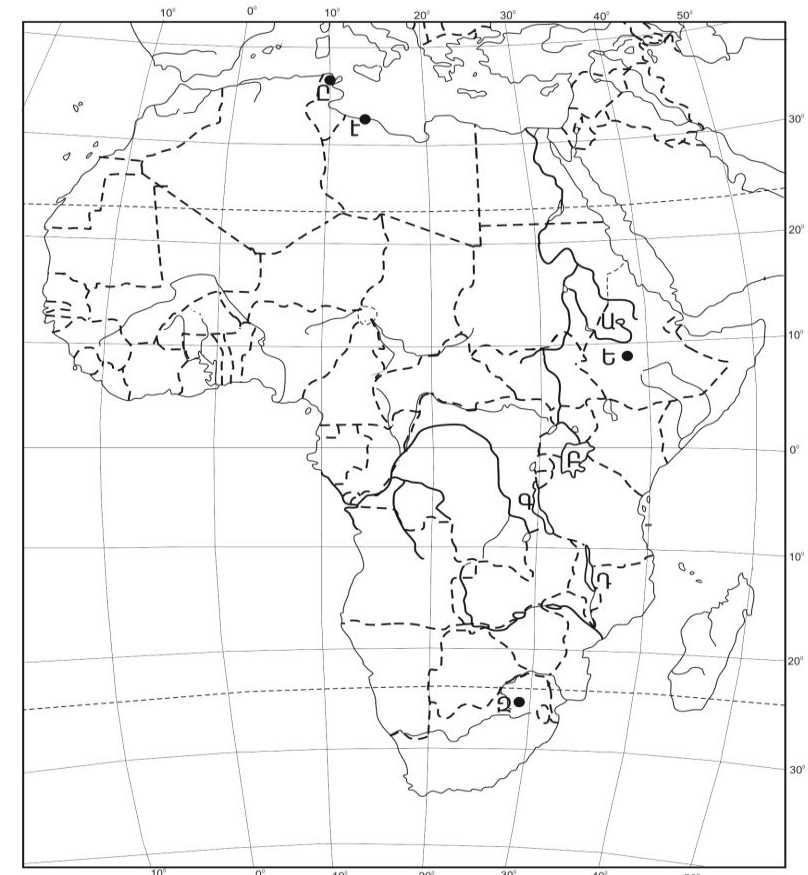
- 1) Վոլգան և Դանուբը
- 2) Թեմզան և Հռենոսը
- 3) Օբը և Ինգուրին
- 4) Դնեպրը և Դոնը

Քարտեզի վրա ո՞ր տառով է նշված Վիկտորիա լիճը:

- 1) Գ
- 2) Դ
- 3) Ա
- 4) Բ

Քարտեզի վրա ո՞ր տառով է նշված Պրետորիա մայրաքաղաքը:

- 1) Է
- 2) Ը
- 3) Ծ
- 4) Զ



21 Որոշակի տարածքում բնակչության տեղաբաշխումը և վերաբաշխումը՝ ըստ բնակավայրերի ու դրանց համակարգերի կոչվում է.

- 1) բնակչության տեղաբաշխում
- 2) տարաբնակեցում
- 3) միգրացիա
- 4) ուրբանիզացում

22 Բնական շարժի հետևանքով մարդկանց սերունդների անընդհատ վերարտադրության և հերթափոխման գործընթացի ամբողջությունը կոչվում է.

- 1) բնակչության վերարտադրություն
- 2) բնակչության մեխանիկական շարժ
- 3) ժողովրդագրական պայթյուն
- 4) ժողովրդագրական ճգնաժամ

23 Հարավ-Արևելյան Ասիայի այդ երկիրն ամբողջությամբ ընկած է կղզիների վրա: Բնակչության մեծ մասը դավանում է քրիստոնեություն: Այդ երկրում կաուչուկի հումք են ստանում նաև կոկոսյան արմավենուց: Ո՞րն է այդ երկիրը:

- 1) Բրունեյ
- 2) Մյանմա
- 3) Ինդոնեզիա
- 4) Ֆիլիպիններ

24 Երկրում ածխի պաշարները կազմում են 2,4մլրդ. տ: Արդյունահանման տարեկան չափը պահպանելու դեպքում այն կբավականացնի 375 տարի: Որքա՞ն է ածխի արդյունահանման տարեկան չափը (արտահայտած՝ տոննայով):

- 1) 2025000
- 2) 1350000
- 3) 6400000
- 4) 1562500

25 «Պետություն – տիրապետող կրոն» սկզբունքով կազմված գույգերից ո՞րն է սխալ:

- 1) Ճապոնիա-սինտոիզմ
- 2) Վրաստան-քրիստոնեություն
- 3) Իրան-հուդայականություն
- 4) Ադրբեջան-մահմեդականություն

26 «Պետություն-պատկանող կղզի» սկզբունքով կազմված գույգերից ո՞րն է սխալ:

- 1) Հունաստան-Կիպրոս
- 2) Ավստրալիա-Թասմանիա
- 3) Ֆրանսիա - Կորսիկա
- 4) Գանիա-Գրենլանդիա

27 «Հողաբարելավման միջոցառում-բնական օբյեկտ» սկզբունքով տրված գույգերից ո՞րն է սխալ:

- 1) արհեստական ոռոգում-մշակովի հողեր
- 2) հակաէրոզիոն միջոցառում- ձյունամերձ լանդշաֆտներ
- 3) չորացում (ցամաքեցում)- գերխոնավ հողեր
- 4) քիմիական մեխորացում-աղուտներ

74 Տրվածներից ո՞րն է զբաղեցնում քարտեզի վրա Ա տառով նշված տարածքները:



- 1) արկտիկական անապատները
- 2) անտառատափաստանները և տափաստանները
- 3) փշատերև անտառները
- 4) տունդրան և անտառատունդրան

69 **Ի՞նչն է ընդհանուր Գյումրի և Հրազդան քաղաքների համար:**

- 1) գործում են հզոր ջերմաէլեկտրակայաններ
- 2) գործում են ցեմենտի արտադրության խոշոր ձեռնարկություններ
- 3) երկաթուղային հանգույցներ են
- 4) նրանց միջով է հոսում Հրազդան գետը

70 **ՀՀ տրված մարզերից որի՞ տարածքում է գտնվում «Դիլիջան» ազգային պարկը:**

- 1) Շիրակի
- 2) Արարատի
- 3) Սյունիքի
- 4) Տավուշի

71 **Ո՞ր գույգում են տրված խոշոր եղջերավոր անասունների գլխաքանակով աշխարհի առաջատար երկրները:**

- 1) Թուրքիա և Աֆղանստան
- 2) Իրան և Մոնղոլիա
- 3) Ճապոնիա և Ղազախստան
- 4) Հնդկաստան և Բրազիլիա

72 **Տրվածներից ո՞րն է մթնոլորտի աղտոտման հետևանք:**

- 1) գերխոնավ հողերի բերրիության անկում
- 2) ջերմոցային էֆեկտի առաջացում
- 3) ստորերկրյա ջրերի մակարդակի բարձրացում
- 4) էրոզիոն երևույթների զարգացում

73 **Ո՞ր պնդումն է սխալ:**

- 1) Մթնոլորտի մարդածին աղտոտման աղբյուրներից է մետաղաձուլությունը:
- 2) Ջրավազաններն աղտոտող հիմնական նյութերը աերոզոլներն(օդակախույթ) են:
- 3) Անտառապատ տարածքների կրճատումն ուղեկցվում է գենոֆոնդի աղքատացմամբ:
- 4) Ջերմոցային էֆեկտի հետևանքով բարձրանում է ներքնոլորտի տարեկան միջին ջերմաստիճանը:

28 **Ո՞ր պնդումն է ճիշտ:**

- 1) Վրաստանում տեղական մանգանի, ներմուծվող երկաթի հիման վրա աշխատում է Ռուսթավիի լիրվ ցիկլի մետալուրգիական կոմբինատը:
- 2) Վրաստանի մակերևույթում ընդարձակ հարթավայրերի շնորհիվ գյուղատնտեսական հանդակները զբաղեցնում են երկրի հողային ֆոնդի 90%-ը:
- 3) Վրաստանի կլիման արևելքում խոնավ է, արևմուտքում՝ չորային:
- 4) Վրացիները կազմում են երկրի բնակչության մոտ 98%-ը:

29 **Բնակչության բնական աճի ավելացման ուղղությամբ առավել ակտիվ ժողովրդագրական քաղաքականություն են վարում.**

- 1) Ֆրանսիան և Գերմանիան
- 2) Նիգերիան և Սուդանը
- 3) Ինդոնեզիան և Հնդկաստանը
- 4) Չինաստանը և Պակիստանը

30 **Խորհրդարանական հանրապետություններ են.**

- 1) Ռուսաստանը և Վրաստանը
- 2) Ադրբեջանը և Բրազիլիան
- 3) Իտալիան և Իսրայելը
- 4) Ֆրանսիան և Հունաստանը

31 **«Պետություն-էլեկտրաէներգետիկայի մասնագիտացման ճյուղ» սկզբունքով կազմված գույգերից ընտրել ո՞րն է սխալ:**

- 1) Նիդեռլանդներ-ջրային էներգետիկա
- 2) ԱՄՆ-ջերմային էներգետիկա
- 3) Ֆրանսիա-ատոմային էներգետիկա
- 4) Իսլանդիա-ջերմային էներգետիկա

32 **Ո՞րն պնդումն է ճիշտ:**

- 1) Մերձարևադարձային և արևադարձային երկրները մասնագիտանում են ցիտրուսային պտուղների մշակման գծով:
- 2) Աշխարհում խոզերի գլխաքանակի շուրջ 50%-ը բաժին է ընկնում Ասիայի մահմեդական երկրներին (Իրան, Սաուդյան Արաբիա և այլն):
- 3) Հացահատիկ արտահանող երկրներից են Եգիպտոսը, Ճապոնիան, Բրազիլիան, Հայաստանը:
- 4) Արվակուլտուրան զարգացած է բարեխառն գոտու տափաստանների ու նոսրանտառների զոնայում:

33 **Կյանքի միջին տևողության ցածր ցուցանիշներ ունեն.**

- 1) Ճապոնիան և Ֆրանսիան
- 2) Ավստրալիան և Նոր Զելանդիան
- 3) Մոզամբիկը և Անգոլան
- 4) Շվեդիան և Շվեյցարիան

34 **Աշխարհում մավթ արտահանող առաջատար երկրներ են.**

- 1) Ֆրանսիան և Շվեյցարիան
- 2) Ուկրաինան և Թուրքիան
- 3) Իտալիան և Հունաստանը
- 4) Վենեսուելան և Նորվեգիան

35 **Տրված լճերից ո՞րն ունի սառցադաշտային ծագում:**

- 1) Ուրմիա լիճը
- 2) Պարզ լիճը
- 3) Փարվանա լիճը
- 4) Քարի լիճը

36 **Տրված «լեռներ-ծագում» սկզբունքով կազմված գույգերից ո՞րն է սխալ:**

- 1) Գուգարաց-հրաբխային
- 2) Արևելյան Սևանի-ծալքաբեկորավոր
- 3) Եղնախաղի-հրաբխային
- 4) Բարգուշատի-ծալքաբեկորավոր

37 **ՀՀ-ում ամենամեծ արտեզյան ավազանն է.**

- 1) Շիրակինը
- 2) Արարատյանը
- 3) Սիսիանինը
- 4) Փամբակինը

38 **Ո՞ր պնդումն է ճիշտ:**

- 1) Չոր, խիստ ցամաքային կլիման ձևավորվում է Արարատյան դաշտի մինչև 1000մ բարձրություններում:
- 2) ՀՀ-ում ցածրադիր գոտու համեմատ միջին բարձրության լեռնային գոտում տեղումների քանակը նվազում է՝ հասնելով 230-300մմ:
- 3) Միջերկրական ծովի կողմից եկող օդային զանգվածներն Ադստևի հովտով անցնում են Փամբակի գոգավորություն՝ բերելով շատ խոնավություն:
- 4) ՀՀ-ում առավելագույն տեղումները թափվում են ձմռանը, նվազագույնը՝ մայիս-հունիսին:

39 **Ո՞ր պնդումն է սխալ:**

- 1) ՀՀ-ում ձկնաբուծությունը զարգանում է նաև Արարատյան դաշտի աղակալած հողերում ստեղծված արհեստական լճակներում:
- 2) ՀՀ ամբողջ տարածքում անասնապահությունը զարգացել է բացառապես բնական արոտային թարմ խոտի բազայի վրա:
- 3) ՀՀ խաղողագործական շրջաններ են Արփայի հովիտը և Զանգեզուրի հարավը (Մեղրի):
- 4) Սևան-Հրազդան ոռոգչաէներգետիկ համակարգի միջոցով սնվում են Արարատյան դաշտի մի շարք մայր ջրանցքներ:

40 **ՀՀ-ում ոչ տեղական հումքի վրա հիմնված մետաղածուլության արտադրություն է.**

- 1) պղնձինը
- 2) ալյումինինը
- 3) ոսկունը
- 4) մոլիբդենինը

63 **Բնութագրումով որոշել երկիրը:**

Հարավ-արևմտյան Ասիայի տարածքի մեծությամբ երկրորդ երկիրն է: Երկրի հարավային ափերը ողողում են Հնդկական օվկիանոսի ջրերը: Բնակչության մեծ մասը դավանում է մահմեդականության շիա ուղղությունը: Ո՞րն է այդ երկիրը:

- 1) Հնդկաստան
- 2) Աֆղանստան
- 3) Իրան
- 4) Թուրքիա

64 **Հայկական լեռնաշխարհի վերաբերյալ ո՞ր պնդումն է սխալ:**

- 1) Բացակայում են գործող հրաբուխները:
- 2) Ամենաբարձր գագաթն ունի ավելի քան 5000 մ բարձրություն:
- 3) Շրջապատված է եզրային լեռների համակարգերով:
- 4) Մեծ Մասիսից դեպի արևմուտք ձգվում է Հայկական Պար լեռնաշղթան:

65 **Ո՞ր պնդումն է ճիշտ:**

- 1) Եղնախաղի լեռնավահանը ձգվում է Հայաստանի և Թուրքիայի պետական սահմանի ուղղությամբ:
- 2) Բարգուշատի և Մեղրու լեռնաշղթաները մասնատված են Արփայի և Արաքսի գետահովիտներով:
- 3) Փամբակի և Ծաղկունյաց լեռները արտաքին շարի լեռներ են:
- 4) Գեղամա լեռնավահանը ճառագայթաձև մասնատվել է Գեղարոտի, Ամբերդի խոր հովիտներով:

66 **Տրվածներից ո՞րն է բնորոշ ՀՀ չոր մերձարևադարձային կլիմայի տիպին:**

- 1) օդի միջին հունվարյան ջերմաստիճանը տատանվում է +10⁰-ի շուրջ
- 2) տարածվում է 1500-2000 մ բարձրություններում
- 3) ձմեռը կարճատև է և մեղմ
- 4) տեղումների միջին տարեկան քանակը հասնում է 800-900 մմ-ի

67 **Ո՞ր պնդումն է ճիշտ:**

- 1) Արարատյան դաշտին բնորոշ է գծային տարաբնակեցումը:
- 2) ՀՀ-ն հարևան պետությունների համար բնակչության բարձր խտություն ունեցող երկիր է:
- 3) ՀՀ բնակչության կեսից ավելին բնակվում է 1500-2500 մ բացարձակ բարձրության գոտում:
- 4) Բնակչության թվով երրորդ քաղաքը Գյումրին է:

68 **ՀՀ գյուղատնտեսության վերաբերյալ ո՞ր պնդումն է ճիշտ:**

- 1) Խաղողի մշակության գլխավոր շրջաններից է Լոռու սարահարթը:
- 2) Խաղողի մշակության վերին սահմանը 2100-2200 մ բացարձակ բարձրություններն են:
- 3) ՀՀ գյուղատնտեսության առաջատար ճյուղը անասնապահությունն է:
- 4) Հացահատկի ցանքատարածություններում գերակշռում է աշնանացան ցորենը:

- 57 **Տրված կլիմայական գոտիներից ո՞րն է Եվրասիայում զբաղեցնում ամենամեծ տարածքը:**
- 1) արևադարձային
 - 2) հասարակածային
 - 3) արկտիկական
 - 4) բարեխառն
- 58 **Ո՞ր գույգում տրված անապատներն են գտնվում Հարավային կիսագնդի արևադարձային կլիմայական գոտու սահմաններում:**
- 1) Ռուբ էլ Խալի և Լիբիական անապատ
 - 2) Կալսահարի և Ատակամա
 - 3) Սահարա և Թար
 - 4) Կարակում և Ավազային Մեծ անապատ
- 59 **Ո՞ր գույգում տրված երկրներում է կյանքի միջին տևողության ցուցանիշը ամենացածրը:**
- 1) Շվեդիա և Իրան
 - 2) Անգոլա և Ջամբիա
 - 3) Ճապոնիա և Նիգերիա
 - 4) Ավստրալիա և Կանադա
- 60 **Տրված պնդումներից ո՞րն է ուրբանիզացիայի վերաբերյալ տեղեկատվություն (ինֆորմացիա) ներառում:**
- 1) Եթե 1900թ. քաղաքներում էր ապրում աշխարհի բնակչության 13.3 %-ը, 1950թ.՝ 29.3%-ը, ապա 2008թ.՝ 50%-ը:
 - 2) Հնդկաստանը, Չինաստանը ունենալով մարդկային և բնական հսկայական ներուժ, այնուամենայնիվ ՀՆԱ-ի 1 շնչի ցուցանիշով զիջում են զարգացած երկրներին:
 - 3) Բնակչության թիվն ու խտությունը մեծ է այն երկրներում ու տարածաշրջաններում, որտեղ բարձր է բնակչության վերաբնակչությունը:
 - 4) Բնակչության խտության ցուցանիշը տարածքի բացարձակ բարձրության մեծացմանը զուգընթաց նվազում է:
- 61 **Ռ-Գ տրված քաղաքներից ո՞րն է այլումինի արտադրության խոշոր կենտրոն:**
- 1) Լիպեցկ
 - 2) Կրասնոդար
 - 3) Իվանովո
 - 4) Բրատսկ
- 62 **Մեծ Բրիտանիայի վերաբերյալ ո՞ր պնդումն է ճիշտ:**
- 1) Գյուղատնտեսության առաջատար ճյուղը բուսաբուծությունն է:
 - 2) Արտահանության մոտ կեսը բաժին է ընկնում հանքային հումքին և վառելիքին:
 - 3) Հյուսիսային Եվրոպայում տարածքով ամենամեծ հանրապետությունն է:
 - 4) Աշխատանքային ռեսուրսների գերակշիռ մասը ընդգրկված է տնտեսության սպասարկման ոլորտում:

- 41 **Արագածոտնի մարզում ո՞ր մայր ջրանցքների շնորհիվ են ընդլայնվել ոռոգովի հողատարածքները:**
- 1) Լոռու և Նալբանդի
 - 2) Մասրիկի և Կոտայքի
 - 3) Շիրակի և Լոռու
 - 4) Թալինի և Արզնի Շամիրամի
- 42 **Տրված մարզերից ո՞րը միայն մեկ մարզի հետ ունի ընդհանուր սահման:**
- 1) Շիրակի մարզը
 - 2) Տավուշի մարզը
 - 3) Արմավիրի մարզը
 - 4) Սյունիքի մարզը
- 43 **Այժմ ՀՀ երկաթուղային ցանցի միջին խտությունը կազմում է մոտ.**
- 1) 30 կմ/1000կմ²
 - 2) 35 կմ/1000կմ²
 - 3) 22 կմ/1000կմ²
 - 4) 25 կմ/1000կմ²
- 44 **Ջրի կենսաբանական մաքրման մեթոդը հիմնված է.**
- 1) խեցգետինների՝ ջրի մեջ լուծված նյութերով սնվելու վրա
 - 2) հոսող ջրի պոտենցիալ էներգիայի օգտագործման վրա
 - 3) ջրոլող թռչունների փետուրների կլանման հատկության վրա
 - 4) մանրէների կենսագործունեության օգտագործման վրա
- 45 **Անագի պաշարներով հարուստ է.**
- 1) Ինդոնեզիան
 - 2) Վրաստանը
 - 3) Գերմանիան
 - 4) Նիդեռլանդները
- 46 **Աշխարհում ամենաշատ ջուր սպառվում է.**
- 1) գյուղատնտեսության մեջ
 - 2) ջրամբարներում ջրի կուտակման արդյունքում
 - 3) արդյունաբերության մեջ
 - 4) կոմունալ-կենցաղային տնտեսության կողմից
- 47 **Ընդերքի ռեսուրսների արդյունավետ օգտագործում է.**
- 1) ընդերքի ռեսուրսների համալիր յուրացումը
 - 2) հանքարդյունահանման հին ավանդական մեթոդների վերականգնումը
 - 3) հանքավայրերում աղքատ պաշարներով թափոնների կուտակումը
 - 4) պոչամբարներում չկորզված նյութերի կուտակումը

48

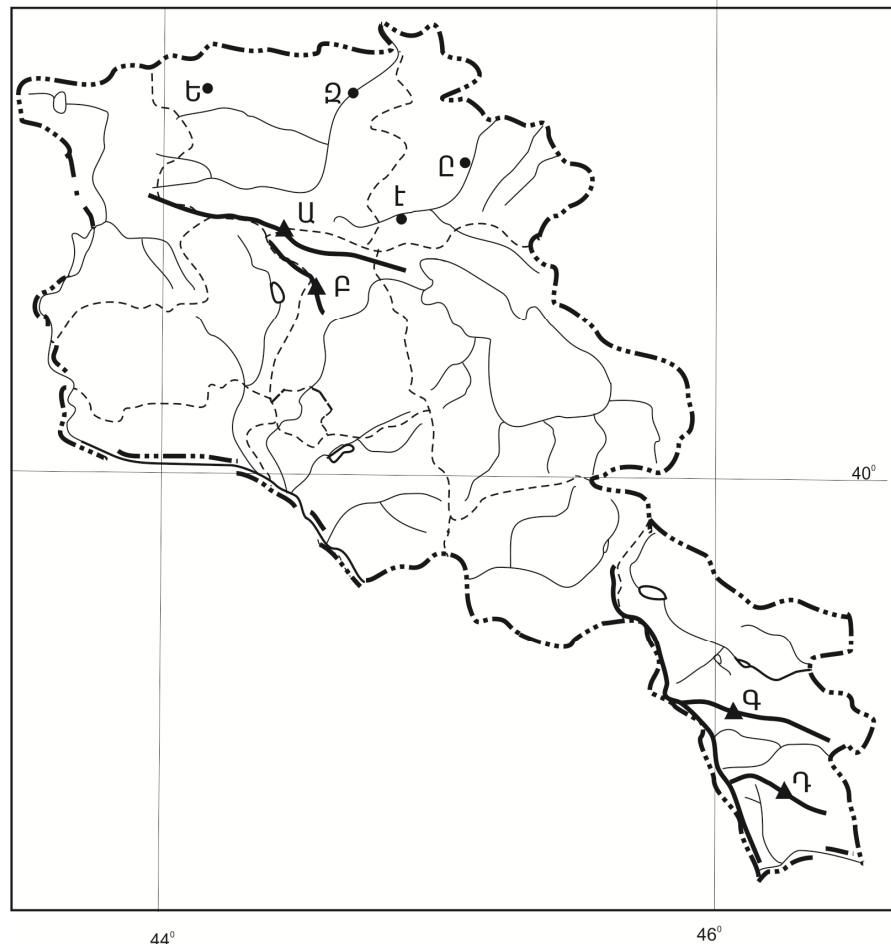
Մթնոլորտի ստորին շերտի տաքացումը ջերմոցային գազերի ու երկրի մակերևույթից արձակվող երկարալիք ճառագայթների կողմից կոչվում է.

- 1) ջերմաստիճանի տատանման լայնույթ
- 2) ջերմոցային տնտեսություն
- 3) ջերմոցային էֆեկտ
- 4) ջերմաստիճանային շրջադասություն (ինվերսիա)

49

Քարտեզի վրա Թեղե-
նիս գագաթը n°-ը տա-
ռով է նշված:

- 1) Գ
- 2) Դ
- 3) Ա
- 4) Բ



50

Քարտեզի վրա Գիլի-
ջան քաղաքը n°-ը տա-
ռով է նշված:

- 1) Է
- 2) Ը
- 3) Ծ
- 4) Զ

Բ մակարդակ

51

Հորիզոնի n°-ը կողմն է ցույց տալիս 225° ազիմուտը:

- 1) հարավ - արևելքը
- 2) հարավ - արևմուտքը
- 3) հյուսիս - արևելքը
- 4) հյուսիս - արևմուտքը

52

Ժամը քանիսը կլիմի Երևանում, եթե Լոնդոնում ժամը 12⁰⁰-ն է:

- 1) 15⁰⁰
- 2) 24⁰⁰
- 3) 9⁰⁰
- 4) 12⁰⁰

53

Ո՞ր պնդումն է ճիշտ:

- 1) Լեռնային շրջաններում ըստ բարձրության մթնոլորտային տեղումների քանակը նվազում է:
- 2) Օդի ջերմաստիճանի տատանման տարեկան լայնույթը հասարակածային լայնություններում փոքր է:
- 3) Վերնոլորտը մթնոլորտի Երկրի մակերևույթին ամենամոտ շերտն է:
- 4) Գիշերվա և ցերեկվա հերթափոխության գլխավոր պատճառը մթնոլորտի շրջանառությունն է:

54

Տրված ապարներից n°-ըն է առաջանում, եթե մագման չի հասնում Երկրի մակերես, այլ սառչում է կես ճանապարհին, երկրակեղևի խորքում:

- 1) գրանիտ
- 2) կերակրի աղ
- 3) այրվող թերթաքար
- 4) կվարց

55

Համաշխարհային օվկիանոսում ներծին (ներքին) ուժերի ազդեցությամբ առաջանում է՝

- 1) ցունամի
- 2) օվկիանոսային հոսանք
- 3) մակընթացություն
- 4) տեղատվություն

56

Մերձարևադարձային գոտու կլիմայի տիպերից որի՞ն են բնորոշ չոր և տաք ամառներ և մեղմ ու խոնավ ձմեռներ:

- 1) մուսսոնային
- 2) խոնավ
- 3) ցամաքային
- 4) միջերկրածովային